

temat lekcji:

Wędrowki dalekie i bliskie.

Odczytywanie, interpretowanie i prezentowanie danych statystycznych



Swoje odpowiedzi możesz zapisywać w zeszycie albo na wydrukowanej karcie pracy poniżej.

Zadanie 1

Uzupełnij zdania, korzystając ze słów: migracja, repatriant, uchodźca, emigrant, imigrant, migracja ekonomiczna.

1. Całokształt przemieszczeń, które mogą spowodować zmianę miejsca zamieszkania na pewien czas lub na stałe, to.....
2. Cudzoziemiec, który przybył do Polski z różnych powodów, na przykład edukacyjnych, to.....
3. Osoba, która uciekła ze swojego kraju z powodu wojny, to.....
4. Polak, który wyjechał na pewien okres do innego kraju, to.....
5. Wyjazd do wybranego kraju Unii Europejskiej w celu poprawy standardu życia to.....
6. Polak, który wrócił do ojczyzny po wcześniejszym przymusowym wywiezieniu jego lub jego najbliższej rodziny, to.....

Zadanie 2

W parach wykonajcie ćwiczenia z odczytywania i prezentowanie danych o zjawisku migracji.

A. Odczytaj z tabeli:

- a. Który kraj przyjął ogółem najwięcej imigrantów i imigrantek w 2017 roku?
- b. W którym kraju mieszka najwięcej osób pochodzących z rodziny imigranckiej, urodzonych w tym kraju?
- c. W którym kraju proporcjonalny udział imigrantów i imigrantek urodzonych w tym kraju w 2017 roku był najwyższy?

Wykres nr 1. Imigracja według kraju urodzenia w 2017 roku

	Suma imigrantów	Urodzeni w tym kraju	Urodzeni za granicą		
			Urodzeni w innym kraju członkowskim	Urodzeni w kraju poza UE	
			Urodzeni w innym kraju członkowskim		
			Urodzeni w kraju poza UE		
		(%)			
Belgia	126 703	14 454	11,41%	53 017	58 663
Bułgaria	25 597	12 614	49,28%	2 031	10 952
Czechy	51 847	6 754	13,03%	12 773	32 320
Dania	68 579	15 387	22,44%	25 154	28 026
Niemcy	917 109	90 657	9,89%	371 768	449 934
Estonia	17 616	7 687	43,64%	4 618	5 291
Irlandia	78 499	26 985	34,38%	27 950	22 673
Grecja	112 247	27 679	24,66%	19 995	64 573
Hiszpania	532 132	38 408	7,22%	122 513	371 211
Francja	369 964	84 802	22,92%	75 606	209 556
Chorwacja	15 553	3 941	25,34%	2 384	9 224
Włochy	343 440	32 641	9,50%	53 269	257 530
Cypr	21 306	3 987	18,71%	8 904	8 415
Łotwa	9 916	4 134	41,69%	1 352	4 419
Litwa	20 368	8 844	43,42%	1 485	10 039
Luksemburg	24 379	1 197	4,91%	14 437	8 668
Węgry	68 070	21 289	31,28%	14 931	31 846
Malta	21 676	1 684	7,77%	10 675	9 317
Holandia	189 646	29 204	15,40%	68 575	91 867
Austria	111 801	7 858	7,03%	59 194	43 567
Polska	209 353	81 786	39,07%	64 426	63 141
Portugalia	36 639	13 830	37,75%	8 553	14 249
Rumunia	177 435	95 231	53,67%	12 936	65 508
Słowenia	18 808	2 254	11,98%	3 193	13 361
Słowacja	7 188	1 164	16,19%	4 675	1 349
Finlandia	31 797	6 728	21,16%	6 736	17 503
Szwecja	144 489	14 428	9,99%	29 028	100 818
Wielka Brytania	644 209	67 192	10,43%	230 609	346 408
Islandia	12 116	1 927	15,90%	7 814	1 809
Liechtenstein	645	42	6,51%	255	348
Norwegia	53 351	4 391	8,23%	18 875	30 085
Szwajcaria	143 377	17 078	11,91%	73 105	51 971

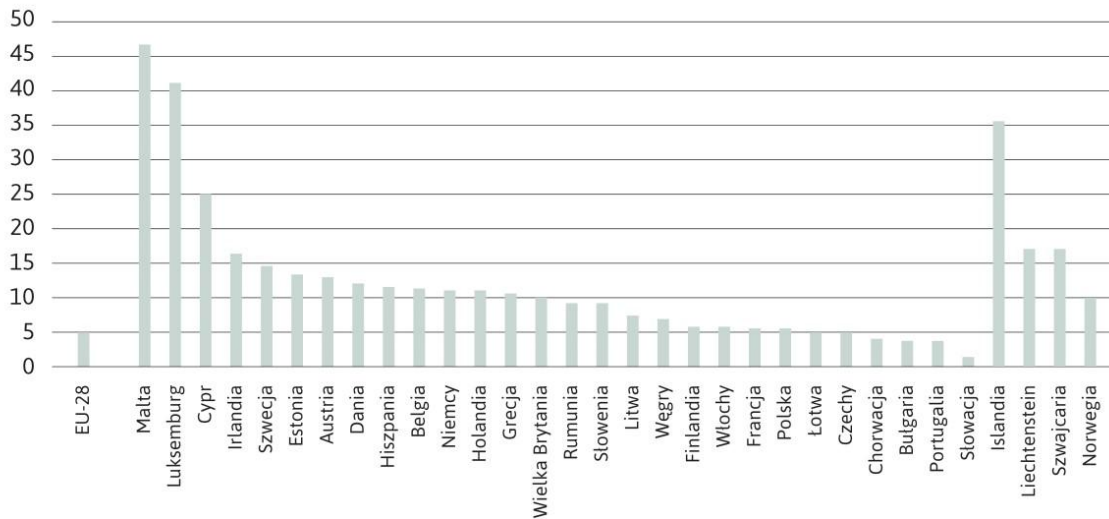
Źródło: Eurostat, *Immigration by country of birth, 2017*, https://ec.europa.eu/eurostat/statistics-explained/index.php?title=File:Immigration_by_country_of_birth_2017.png (online data code: migr_imm3ctb).

B.

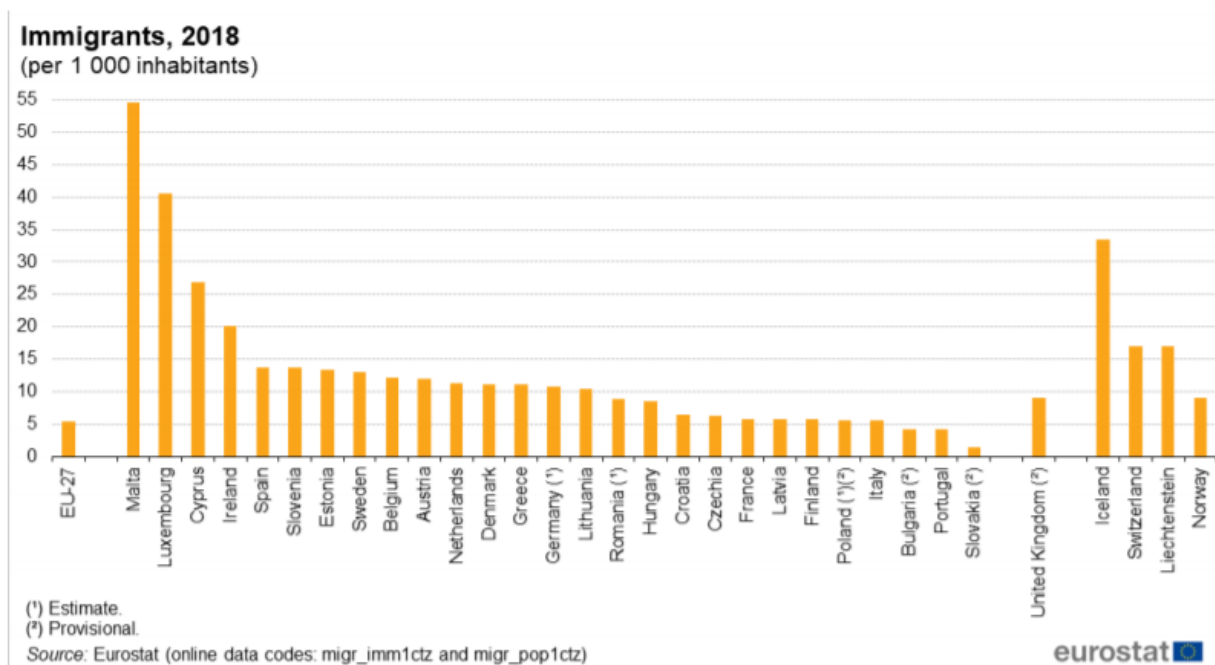
C. Odczytaj z diagramu słupkowego:

- W którym kraju odnotowano najwyższe wskaźniki imigracji w 2017 roku w stosunku do populacji mieszkańców i mieszkanek, a w 2018?
- W których krajach zarejestrowano ponad 15 imigrantów i imigrantek na 1000 mieszkańców i mieszkanek w 2017 roku, a w których w 2018?
- Na podstawie danych z diagramu ułóż dowolne pytanie i poproś, aby odpowiedzieli na nie koleżanka lub kolega.

Wykres nr 2. Imigranci w 2017 roku (na 1000 mieszkańców)



Źródło: Eurostat, *Immigrants, 2017*, https://ec.europa.eu/eurostat/statistics-explained/index.php/Migration_and_migrant_population_statistics.

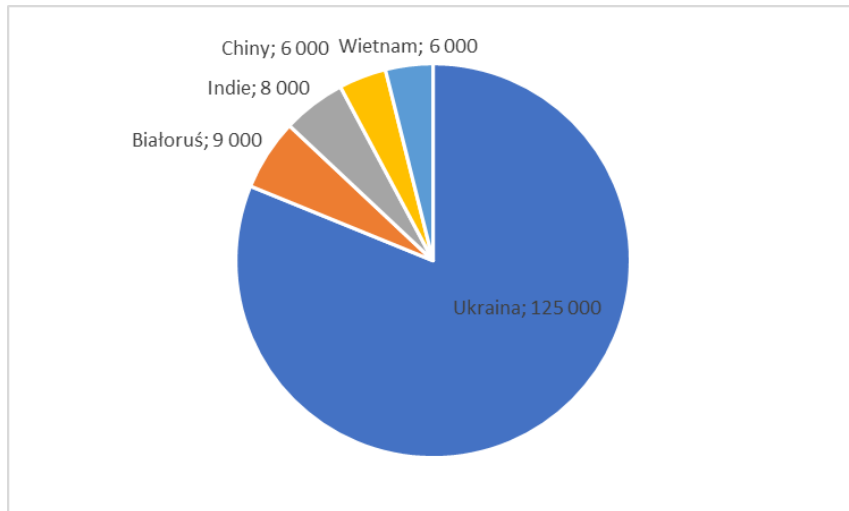


Wykres 2: Imigranci, 2018 r. (na 1 000 mieszkańców) Źródło: Eurostat (migr_imm1ctz) i (migr_pop1ctz)

D. Korzystając z diagramu kołowego, odpowiedz na pytania:

- a. Obywatele i obywatelki którego kraju złożyli najwięcej wniosków o zezwolenie na pobyt stały w Polsce w 2017 roku?
- b. Jaka to część wniosków złożonych przez obywateli i obywatelki pięciu państw?
- c. Jaki procent wniosków złożonych przez obywateli i obywatelki pięciu państw stanowią wnioski złożone przez obywateli i obywatelki Wietnamu?

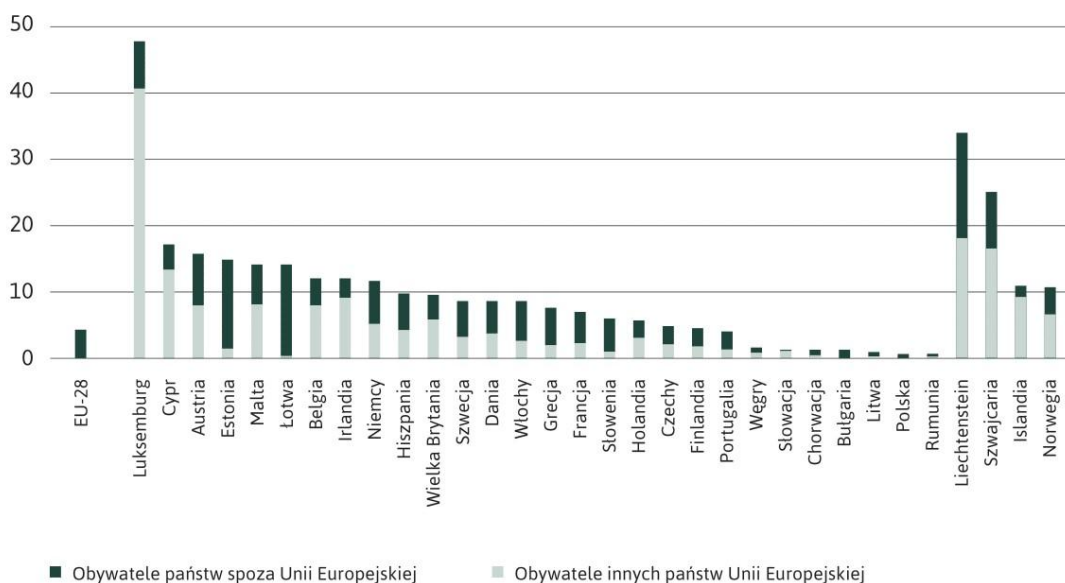
Liczba wniosków o zezwolenie na pobyt stały w Polsce w 2017 r. według obywatelstwa



Źródło: Urząd do spraw cudzoziemców, "Biuletyn informacyjny", kwiecień 2018, nr 3.

- E. W wartościach względnych państwem członkowskim UE o najwyższym odsetku cudzoziemców i cudzożemek w 2018 roku był Luksemburg, gdzie stanowili oni ogółem 48% ludności.
- Na podstawie wykresu wskaż państwa, w których odsetek cudzoziemców i cudzożemek jest wysoki (co najmniej 10% populacji rezydentów).
 - Na podstawie wykresu wskaż pięć państw, w których jest najwyższy odsetek cudzoziemców i cudzożemek spoza krajów członkowskich UE.
 - W których państwach cudzoziemcy i cudzożemki z UE i spoza niej są mniej więcej równoliczni?

Wykres nr 3. Odsetek cudzoziemców w populacji mieszkańców i mieszkanek na dzień 1 stycznia 2018 roku



Źródło: Eurostat, *Share of non-nationals in the resident population, 1 January 2018*, [https://ec.europa.eu/eurostat/statistics-explained/index.php?title=File:Share_of_non-nationals_in_the_resident_population_1_January_2018_\(%25\).png](https://ec.europa.eu/eurostat/statistics-explained/index.php?title=File:Share_of_non-nationals_in_the_resident_population_1_January_2018_(%25).png) (online data code: migr_pop1ctz).

- F. Obecnie mamy na świecie 65,6 miliona osób, które musiały opuścić swoje miejsce zamieszkania. To jakby migrowała ludność 38 miast wielkości Warszawy. 25,3 miliona z tych ludzi to uchodźcy, którzy uciekli przed prześladowaniami nie tylko z domu, ale i z własnej ojczyzny. Ponad połowa wszystkich uchodźców na świecie (55%) pochodzi z trzech państw: Syrii, Afganistanu i Sudanu Południowego. Które dane najbardziej Cię zaskoczyły, zainteresowały w tym tekście? Przedstaw te dane graficznie w dowolnie wybrany sposób.

